

Họ và Tên: _____

Ngày _____

Bài làm trong lớp


I. Look at the pictures and select the best words

Nhìn hình và chọn chữ đúng nhất.

- A. ông già
- B. ông nội
- C. con trai




- A. con trai
- B. em bé
- C. con gái



- A. anh trai
- B. ba
- C. em gái



- A. bà
- B. cô giáo
- C. em bé



ba, cha – dad
 ông nội – grandpa (dad side)
 bà nội – grandma (dad side)
 chú , bác – uncle
 cô – aunt

má, mẹ – mom
 ông ngoại – grandpa (mom side)
 bà ngoại – grandma (mom side)
 cậu - uncle
 dì - aunt

II. Chọn từ đúng nhất . Select the best word.

1. Ba của mẹ gọi là gì ?

- A. ông nội
- B. ông ngoại
- C. ông cậu

2. Em của ba gọi là gì?

- A. anh
- B. chú
- C. cậu

3. Chị của ba gọi là gì?

- A. cô
- B. dì
- C. chị

4. Anh của má gọi là gì?

- A. chú
- B. cậu
- C. cháu

5. Mẹ của ba gọi là gì?

- A. bà nội
- B. bà ngoại
- C. dì

III. Em chọn từ mà không cùng loại.

Select the word which does not fit the category.

1. trái cây – fruits

- A. trái cam
- B. trái lê
- C. trái chuối
- D. trái cà

2. rau cải – vegetables

- A. dưa leo
- B. trái cà
- C. sà- lách
- D. cá

3. thịt – meat

- A. thịt gà
- B. thịt bò
- C. cá
- D. thịt heo

4. thức uống – drink

- A. sữa
- B. nước cam
- C. nước mía
- D. yogurt

5. hành động – actions

- A. chạy
- B. suy nghĩ
- C. ngồi
- D. hát

VI. Em viết những số này như thế nào?

How could you write out the following numbers ?

1. số mười tám

- A. 8
- B. 18
- C. 13
- D. 18

2. số bảy

- A. 17
- B. 7
- C. 27
- D. 3

3. số không

- A. 20
- B. 0
- C. 08
- D. 10

4. số mười lăm


- A. 5
- B. 15
- C. 17
- D. 10

5. số mười chín

- A. 9
- B. 16
- C. 19
- D. 10

V. Đọc thực đơn tiệm café và trả lời những câu hỏi sau đây. Read the café menu & then answer the question that follow .

1. Một ổ bánh mì thịt giá _____
 A. năm đồng
 B. bốn đồng
 C. hai đồng rưỡi
 D. một đồng
2. Một ly nước mía giá _____
 A. hai đồng
 B. bốn đồng
 C. hai đồng rưỡi
 D. một đồng
3. Một bánh chuối nướng giá _____
 A. bốn đồng
 B. ba đồng
 C. một đồng rưỡi
 D. hai đồng
4. Một ly café sữa đá giá _____
 A. bốn đồng
 B. một đồng
 C. một đồng rưỡi
 D. hai đồng rưỡi
5. Một ly chè giá _____
 A. hai đồng rưỡi
 B. hai đồng
 C. bốn đồng
 D. một đồng rưỡi
6. Một ly nước ngọt giá _____
 A. hai đồng
 B. một đồng rưỡi
 C. một đồng
 D. ba đồng
7. Một bánh croissant giá _____
 A. hai đồng
 B. bốn đồng
 C. một đồng rưỡi
 D. hai đồng rưỡi



Café TÂM 2788 NW Bluesky Ave Sunnyside, OR 76443	
THỰC ĐƠN	
nước cam	2 đồng
bánh mì	1 đồng
chè	2 đồng
nước mía	2 đồng rưỡi
bánh chuối nướng	3 đồng
bánh mì thịt	2 đồng rưỡi
bánh croissant	2 đồng
bánh mì ham	5 đồng
café sữa đá	4 đồng
nước ngọt	1 đồng
nước chanh	1 đồng rưỡi

CaFé TÂM mở cửa:

7 ngày từ 8:00 giờ sáng tới 10:00 giờ tối .
 Thứ Tư và Chủ Nhật mở cửa tới 11: 00 giờ tối.