

Tên (Name): _____

11/17/07

Xin Phụ Huynh Ký Tên: _____

Em Học Đếm

(learning to count)

Các em đếm những hình dưới đây và khoanh tròn số cho câu trả lời
(Count the items and circle the correct answer)



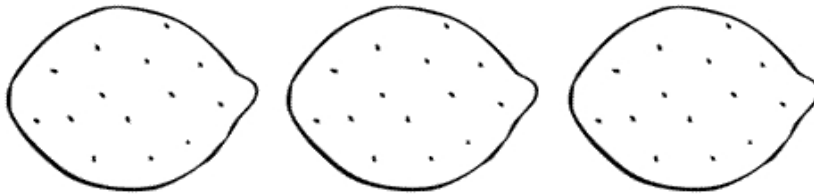
1 2 3 4 5 6

Bao nhiêu
trái táo lớn



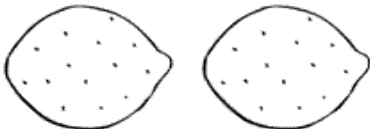
1 2 3 4 5 6

Bao nhiêu
trái táo nhỏ



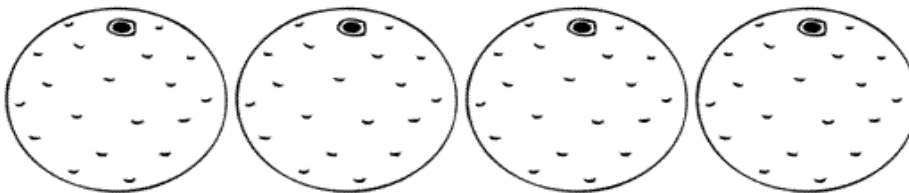
1 2 3 4 5 6

Bao nhiêu
trái chanh lớn



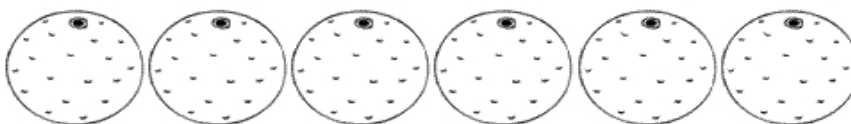
1 2 3 4 5 6

Bao nhiêu
trái chanh nhỏ



1 2 3 4 5 6

Bao nhiêu
trái cam lớn



1 2 3 4 5 6

Bao nhiêu
trái cam nhỏ